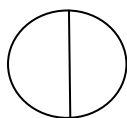
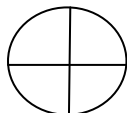


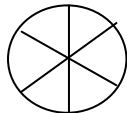
Το μισό



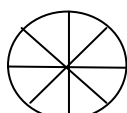
Το μισό του 2 είναι 1



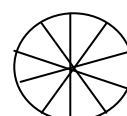
Το μισό του 4 είναι 2



Το μισό του 6 είναι 3



Το μισό του 8 είναι 4



Το μισό του 10 είναι 5

Γράψε τα
μισά των
αριθμών στο
τετράδιο και
προσπάθησε
να τα μάθεις.

1) Συμπληρώνω τους αριθμούς :

Το μισό του 2 είναι ____

Το μισό του 4 είναι ____

Το μισό του 6 είναι ____

Το μισό του 8 είναι ____

Το μισό του 10 είναι ____

2) Ο παππούς έδωσε στον Μάνο και στον Πάνο μια σακούλα καραμέλες για να τις μοιραστούν δίκαια . Πόσες καραμέλες θα πάρει κάθε παιδί αν η σακούλα είχε:

10 καραμέλες; Απάντηση: _____

6 καραμέλες; Απάντηση: _____

20 καραμέλες; Απάντηση: _____



Φανή Μακρίδου Α'1

Ανδριάννα Σκόρδου Α'2